

全真模拟训练卷



(三)

题号	一	二	三	四	五	六	七	总分
得分								

一、填一填。(30分)

- 一个一个地数,50前面的数是(49),后面的数是(51);十个十个地数,50前面的数是(40),后面的数是(60)。
- 在99和64中,(99)更接近90。
- 找规律填数。
 - (1)84,86,88,(90),(92),(94),(96)。
 - (2)(100),95,90,85,(80),(75),(70)。
 - (3)13,24,35,(46),(57),(68),(79)。
- 一个数是33,另一个数是48,这两个数的和是(81)。
- 38和42之间的两位数有(39),(40),(41)。
- 被减数是76,减数是39,差是(37)。
- 79中的“7”表示(7个十),“9”表示(9个一)。
- 在○里填上“>”“<”或“=”。

74 (>) 47

67-5 (<) 75-5

6+61 (>) 90-30

84+3 (=) 75+12

100-34 (>) 100-43

69-13 (<) 96-31

二、判断,对的画“√”,错的画“×”。(5分)

- 80个一和8个十同样多。(√)
- 66中的两个“6”表示的意义一样。(×)
- 正方形的四条边都相等。(√)

4. 三角形的三条边都相等。 (×)

5. $48+52$ 与 $58+42$ 的得数相等。 (√)

三、算一算。(共 20 分)

1. 直接写出得数。(8 分)

$65-12=53 \quad 15-8=7 \quad 41+29=70 \quad 12+80=92$

$19+57=76 \quad 75-18=57 \quad 12-3=9 \quad 61-16=45$

$38+22=60 \quad 47-11=36 \quad 34+54=88 \quad 17-9=8$

$40+30=70 \quad 13-6=7 \quad 69-50=19 \quad 96-80=16$

2. 用竖式计算。(12 分)

$25+36=61 \quad 40-18=22 \quad 9+27=36$

$$\begin{array}{r} 25 \\ + 36 \\ \hline 61 \end{array}$$

$$\begin{array}{r} 40 \\ - 18 \\ \hline 22 \end{array}$$

$$\begin{array}{r} 9 \\ + 27 \\ \hline 36 \end{array}$$

$83-7=76 \quad 42+24=66 \quad 68-59=9$

$$\begin{array}{r} 83 \\ - 7 \\ \hline 76 \end{array}$$

$$\begin{array}{r} 42 \\ + 24 \\ \hline 66 \end{array}$$

$$\begin{array}{r} 68 \\ - 59 \\ \hline 9 \end{array}$$

四、选一选,在合适的答案下面画“√”。(9 分)

1. 一个数比 36 多 18,这个数是多少?

18	54	64
	√	

2.
小芳说: “我拍了36下。” 小军说: “我拍的比你多得多。”


小军可能拍了多少下?

32 下	42 下	82 下
		√

3. 鸡有 56 只,鸭的只数和鸡差不多。鸭可能有多少只?






16 只	53 只	96 只
	✓	

五、下面右边的图分别是谁看到的? 请你连一连。(6 分)



六、给小动物排排队。(先填出得数,再把算式按得数从大到小排列)


(5 分)

				
$50-23=27$	$36+6=42$	$28+44=72$	$91-37=54$	$64-18=46$

$$28+44>91-37>64-18>36+6>50-23$$

七、解决问题。(25 分)

1. 他俩一共拍了多少下?(4 分)



【答案】 $35+21=56$ (下)

口答:他俩一共拍了 56 下。

2. 小红比小丽多折多少只纸鹤?(4 分)



【答案】 $15-8=7$ (只)

口答:小红比小丽多折 7 只纸鹤。

3. 小芳看一本 80 页的故事书。




小芳

她已经看了多少页？(4 分)

【答案】 $80-26=54$ (页)

口答:她已经看了 54 页。

4.  有 85 只,  比  少 46 只,  有多少只? (4 分)

【答案】 $85-46=39$ (只)

口答:  有 39 只。

5. (4 分)  我有 25 本故事书。

 我有 19 本连环画。

(1) 两个同学一共有多少本书?

【答案】 $25+19=44$ (本)

口答:两个同学一共有 44 本书。

(2) 连环画再添几本就 and 故事书同样多?

【答案】 $25-19=6$ (本)

口答:连环画再添 6 本就 and 故事书同样多。

6. (趣味题) 王叔叔把一根粗细一样的木头锯成 5 段, 需要 4 分钟。照这样计算, 如果把这根木头锯成 10 段, 那么需要几分钟? 如果把这根木头锯成 100 段, 那么需要多少分钟? (5 分)

【答案】因为锯成 5 段, 锯 4 次, 需要 4 分钟, 每次需要 1 分钟, 所以锯成 10 段, 锯 9 次, 需要 9 分钟; 锯成 100 段, 锯 99 次, 需要 99 分钟。

口答: 需要 99 分钟。